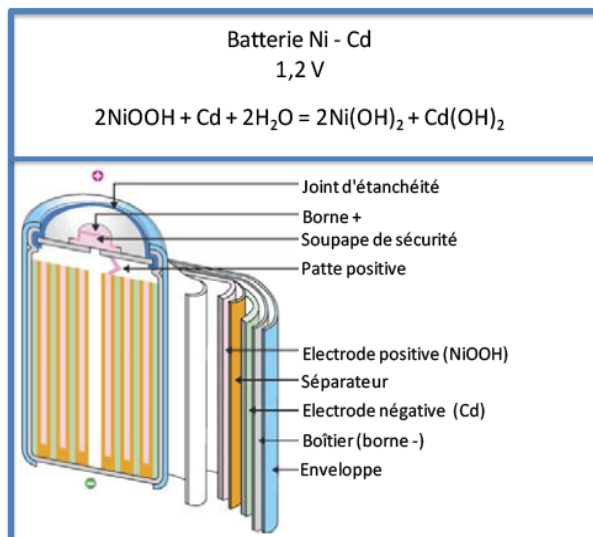


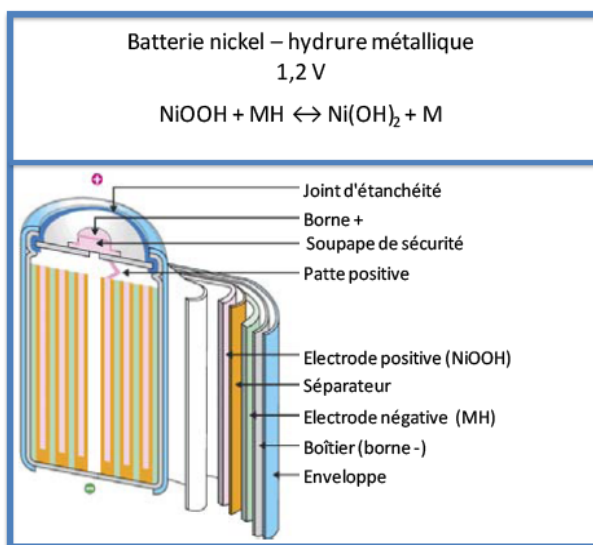
ACCUMULATEURS

Consigne individuel (15 min)

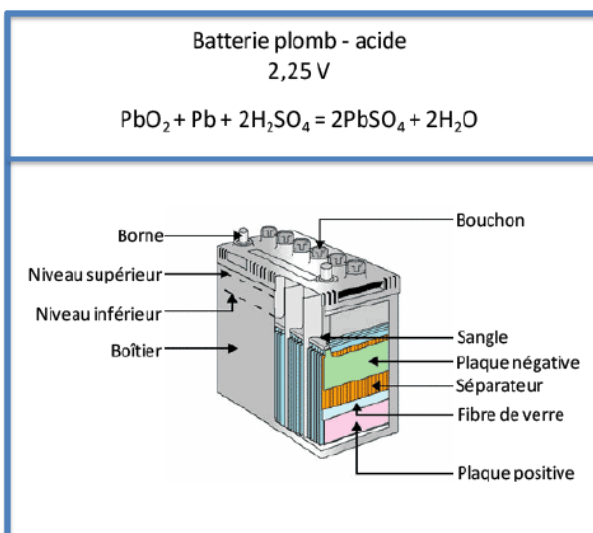
Etablir les demi-équations redox aux électrodes (préciser le sens d'évolution lors du fonctionnement en générateur et lors de la « recharge »).



+ $\text{Ni}^{3+}/\text{Ni}^{2+} // \text{Cd}^{2+}/\text{Cd}$



+ $\text{Ni}^{3+}/\text{Ni}^{2+} // \text{M}^{+}/\text{M}$



+ $\text{Pb}^{4+}/\text{Pb}^{2+}/\text{Pb}$